

نام :

نام خانوادگی:

دبیر: آقای اکوان



کاربرگ آموزشی

اداره کل آموزش و پرورش استان تهران

اداره آموزش و پرورش تهران

مساحت دایره های زیر را بدست آورید.

$$\text{مساحت دایره} = \frac{3}{14} \times \text{شعاع} \times \text{شعاع}$$

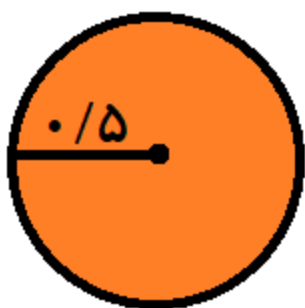
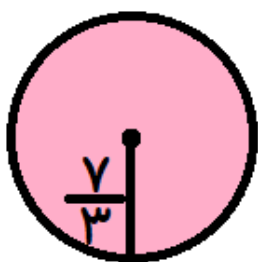


www.akvanpour.ir/post/166

ویدیوی پاسخ ها کلیک کنید




مساحت دایره های زیر را بدست آورید. عدد پی را ۳ در نظر بگیرید



www.akvanpour.ir/post/166

ویدیوی پاسخ ها کلیک کنید



لینک ها فعال هستند (کلیک کنید)

نمونه سوالات فصل به فصل ریاضی ششم

www.akvanpour.ir/cat/9

نمونه سوالات فصل به فصل ریاضی ششم

www.akvanpour.ir/cat/9

گام به گام pdf ریاضی ششم

www.akvanpour.ir/post/62

گام به گام pdf ریاضی ششم

www.akvanpour.ir/post/62

سایت مرجع (بقیه پایه ها)

akvanpour.ir

تدریس خصوصی سراسر کشور (تماس تصویری)

حضور (فقط تهران) مشاور ثبت نام (خانم هاشمی) ۰۹۱۰-۶۰۱-۱۴۰۰

غرب	شمال	مرکز و شرق
۴۴۴۶۹۹۲۱	۲۲۸۶۹۰۳۸	۷۶۸۷۵۸۴۵

